

GRATUIT

CAHIER





D'ACTIVITÉS

Connaissances générales


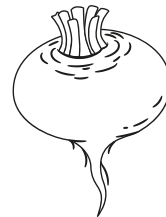

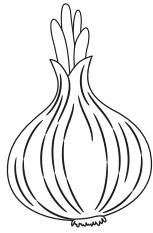

- 10 pages
- 44 exercices

7 à 9 ans

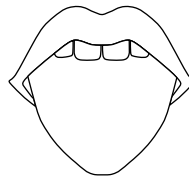
1 Quel est le nombre suivant dans cette série ?



2 Quel légume se trouve à gauche de l'avant-dernier légume ?



3 De quel organe as-tu besoin pour entendre ?




4 Qui est la sœur de mon frère ?

a. ma tante

b. ma sœur

c. ma mère


5 Quels animaux hibernent ?




le hérisson



le chat



la poule



la tortue

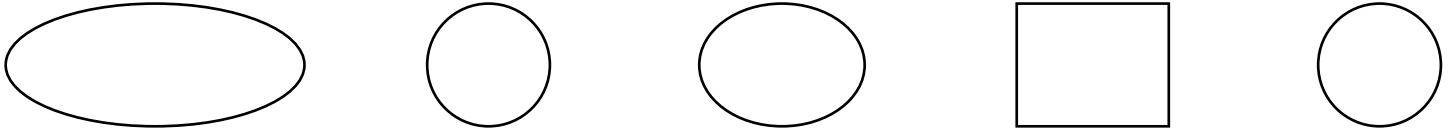
6 À quoi sert à éventail ?

- a. à faire peur aux oiseaux
- b. à produire de l'air pour se rafraîchir
- c. à indiquer la direction du vent


7 Comment appelle--on l'articulation située entre le bras et l'avant-bras ?

- a. le poignet
- b. le coude
- c. l'épaule

8 Quel est l'intrus de cette série ?



9 Quels sont les deux dessins identiques ?




10 C'est aujourd'hui jeudi. Quel jour serons-nous demain ?

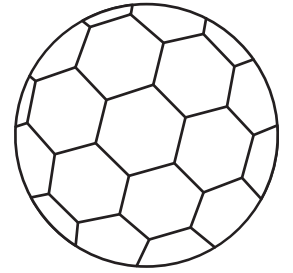
- mercredi
- vendredi
- samedi
- dimanche

11 Comment s'appelle le petit de la vache ?

- a. l'agneau
- b. le veau
- c. le chevreau




12 Qu'est-ce qui pèse le moins ?



13 Où doit-on se rendre pour prendre le train ?

- a. à l'aéroport
- b. à l'embarcadère
- c. à la gare



14 Qui est le fils de mon grand-père ?






- a. mon fils
- b. mon père
- c. mon frère

15 Qu'obtient-on en écrasant des grains de blé ?

- a. du cacao
- b. du sucre
- c. de la farine



16 Quel animal se trouve entre le second et le quatrième ?




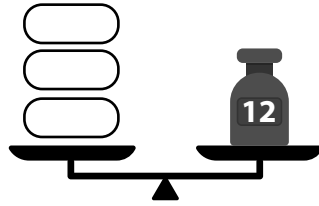
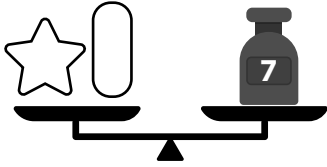
17 Comment s'appelle la limite entre deux États ?

- a. la lisière
- b. la frontière
- c. la séparation

18 Que porte le cerf sur sa tête ?

- a. des bois
- b. des cornes
- c. des défenses

19 Retrouve le poids de deux étoiles.



20 Relie chaque visage au mot qui correspond.



surprise


contente

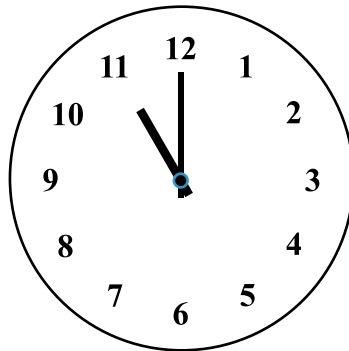
fâchée

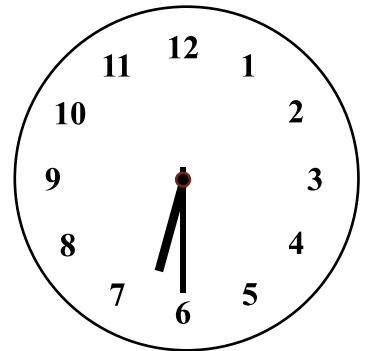
pensive

triste

21 Quelle heure est-il le matin sur chaque horloge ?








22 Qu'est-ce que c'est ?

- a. un thermomètre
- b. un baromètre
- c. un sablier



23 Lequel de ces panneaux signifie sens interdit ?



24 Quel est le nombre suivant dans la série ?

38	36	34	32	30	?
----	----	----	----	----	---

25 Quel mot rime avec lune ?

- a. arbre
- b. dune
- c. verre

26 Qui utilise un stéthoscope ?

- a. un astronome
- b. un biologiste
- c. un médecin

27 Combien de bouteilles d'un demi-litre faut-il pour égaler une bouteille d'un litre ?

- a. 2
- b. 3
- c. 4




28 Qui te suit partout ? Attention, les lettres sont dans le désordre.

M B E O R

Réponse : _____

29 Quel numéro de téléphone doit-on composer en cas d'urgence ?





30 Dans le dictionnaire, quel est le mot qui sera classé le premier ?

- a. pomme
- b. poire
- c. prune

31 Lequel des mots suivants est un légume ?

- a. figue
- b. poireau
- c. raisin

32 J'achète 3 citrons et 5 pommes. Combien de fruits ai-je alors ? Réponse : _____



33 Comment s'appelle l'artisan qui travaillait autrefois le fer ?

- a. le burrelier
- b. le forgeron
- c. le coutelier



34 Quel est le sixième mois de l'année ?

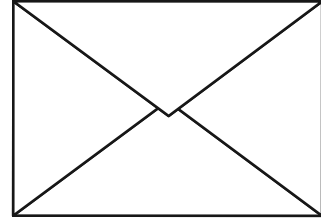
- a. avril
- b. mai
- c. juin

35 Dans quels mots faut-il écrire «â» ?

- a. bateau
- b. gateau
- c. chateau
- d. matelot

36 Comment écrit-on ?

- a. enveloppe
- b. envelope
- c. enveloppe
- d. envellope







37 La figure géométrique représentée en rouge à droite est ?



- a. un carré
- b. trapèze
- c. un rectangle
- d. un losange





38 Observe le modèle numéro 1. Indique la valeur des poids en utilisant les chiffres situés à droite.

1)  


2)  

3)  

4)  

39 Quel animal faut-il tondre pour avoir de la laine ?

Réponse : _____



40 Trouve un synonyme de réverbère qui commence par lam... ?

Réponse : _____



41 Être excédé, c'est :


- a. être énervé
- b. être content
- c. avoir faim

42 Lequel de ces fruits n'est pas comestible ?

- a. la noix
- b. la noisette
- c. le marron

43 Comment appelle-t-on l'homme qui garde des moutons ?

Réponse : _____



44 Quel est le nombre suivant dans chacune des 2 séries ?

5	10	15	20	25	_____
---	----	----	----	----	-------

18	15	12	9	6	_____
----	----	----	---	---	-------

Solutions

1 Nombre suivant : 4

2 La carotte


3 L'oreille

4 Ma sœur

5 Le hérisson et la tortue sont des animaux qui hibernent.


Pour échapper au froid et au manque de nourriture en hiver, certains animaux se cachent et se mettent à vivre au ralenti.

6 L'éventail sert à produire de l'air pour se rafraîchir.



7 Le coude est l'articulation située entre le bras et l'avant-bras.

8 L'intrus de la série :



9 Les deux dessins identiques : 2 et 6.

10 Vendredi

11 Le veau


12 La plume

13 La gare

14 Mon père

15 De la farine

16 L'hippopotame

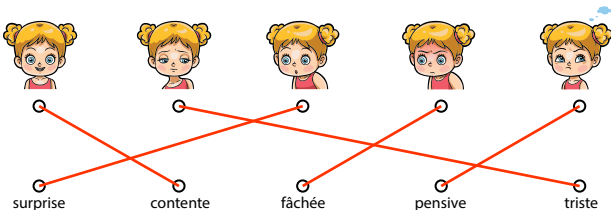


17 La frontière

18 Des bois

19 Résultat à inscrire : 6

20



21 8 h ; 11 h ; 6 h 30

22 Un sablier

23 Sens interdit



24 Chiffre suivant : 28

25 Dune

26 Un médecin

27 Réponse : 2

28 Réponse : OMBRE

29 Police : 17 ; pompiers : 18 ; SAMU : 15

30 Poire

31 Poireau

32 Bonne réponse : 8

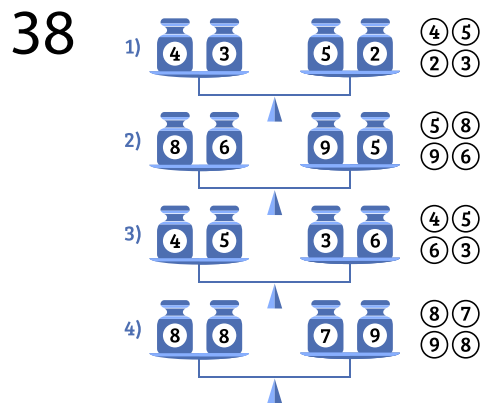
33 Le forgeron

34 Le 6ème mois de l'année : juin

35 Gâteau et château

36 Enveloppe

37 Losange



39 Les moutons

40 Lampadaire

41 être énervé

42 Le marron

43 Le berger

44 30 et 3